

N1.

$\lambda = 3000 \text{ \AA}$

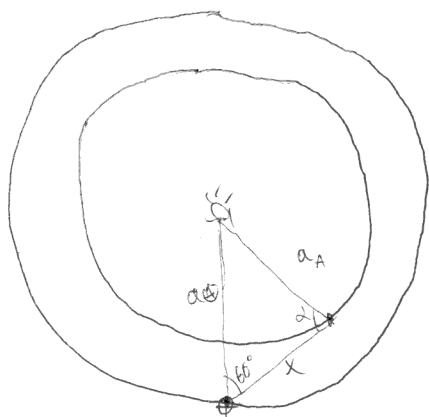
$D = 2,4 \text{ m}$

~~$\frac{\Delta \lambda}{\lambda} = \frac{\beta r_1}{r}$~~

~~$\lambda \approx \frac{8}{11}$~~   $\beta = \frac{1,22 \lambda}{D} = \frac{1,22 \cdot 3000 \cdot 10^{-10}}{2,4} \approx 1500 \cdot 10^{-10} \text{ m} = \frac{1500 \cdot 10^{-10} \cdot 180}{\pi} \approx 90 \cdot 10^3 \cdot 10^{-10} \approx 10^{-5} \text{ } \approx 30''$

Т.к. 6 год. "углом уверенно разрешить" значит это примерно предельное значение, значит минимальное расстояние между компонентами  $\approx 30''$

N2.



$\frac{a_\theta}{\sin \alpha} = \frac{a_A}{\sin 60^\circ}$

$\sin \alpha = \sin 60^\circ \cdot \frac{a_\theta}{a_A} \approx 1,15 \sin 60^\circ =$

$= \sin 60^\circ + 0,15 \sin 60^\circ =$

$= \sin 60^\circ + 0,15 \cdot \sqrt{3} \cos 60^\circ$

$\alpha \approx \frac{\pi}{3} + 0,15 \cdot \sqrt{3} \approx 1,05 + 0,25 \approx 1,3 \text{ рад}$

$\cos \alpha = \sqrt{1 - 1,15^2 \sin^2 60^\circ} = \sqrt{1 - (1 + 2 \cdot 0,15) \frac{3}{4}} = \sqrt{1 - \frac{3,15}{4}} \approx \frac{\sqrt{0,175}}{2} \approx 0,16$

$X^2 = a_A^2 + a_\theta^2 - 2 a_A a_\theta \cos(120 - \alpha) \approx 1,75 - 1,7 \cdot 0,15 \approx 0,17 \text{ a.e.}$

$\cos \alpha (120 - \alpha) = \cos 120 \cos \alpha + \sin 120 \sin \alpha = -\frac{1}{2} \cos \alpha + 1,15 \sin^2 60^\circ =$

$\approx -0,08 + 1,15 \cdot \frac{3}{4} \approx 0,9$



$X \approx 0,41 \text{ a.e.}$

~~$m_0 = m_+ = -2,5 \lg \frac{a_\theta^2}{X^2} \approx -5 \lg \frac{a_\theta}{X}$~~

~~$m_A = -26,7^m + 5 \lg \frac{1}{0,15} \approx -26,7^m + 5 \lg 10 \approx -26,7^m + 5 = -21,7^m$~~

$\theta_A = \frac{2R}{X} = \frac{100}{0,15 \cdot 15 \cdot 10^6} \approx \frac{1}{7 \cdot 10^8} \text{ рад} \approx \frac{180}{\pi \cdot 7 \cdot 10^8} \approx \frac{1}{10^7} \approx 0,3''$

$m_T = m_{\text{ref}} + 2,5 \lg \left( \frac{\theta}{\theta_{\text{ref}}} \right)^2 \approx -6^m + 2,5 \lg \left( \frac{500 \mu\text{m}}{8 \mu\text{m}} \right)^2 \approx -6 + 10 = 4^m$

$\beta = \max \left\{ \frac{1,22 \lambda}{D}; \frac{2}{\Gamma} \right\}; \frac{1,22 \cdot 550 \cdot 10^{-9} \text{ m}}{0,50 \text{ m}} \approx 10^{-6} \approx 3''; \frac{2}{\frac{2}{50}} = \frac{2}{0,04} = 50 \text{ } \approx 1'$



(Примерное ~2)

$\beta \approx 1^\circ > \beta_A$

Значит по известным параметрам  $\beta = \frac{122 \lambda}{D} \approx 3''$  это все равно  $> \beta_A$

Значит по известным параметрам мы бы смогли увидеть источник, но, увы, размерная способность телескопа не позволяет нам это сделать.

$$m_0 - m_A = -2.5 \lg \frac{E_0}{E_A} = -5 \lg \frac{I_0}{I_A} \approx -5 \lg \frac{30'}{0.13''} \approx -5 \lg 1000.6 \approx -5.4 = -20$$

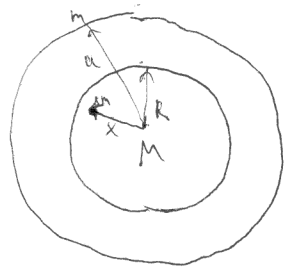
~~...~~  $E \sim \frac{R^2}{x^2} \sim \beta^2$

$m_A = m_0 + 20 \approx \boxed{-6.7^m} < m_T$

~3.

$m = M_0 \quad \beta^{-1}?$

Верхние слои осн. камп. притягивает к б.к. сильнее, чем к центру осн. камп.



Пусть притягивает ~~также~~ тангенциальн  $\Delta R$

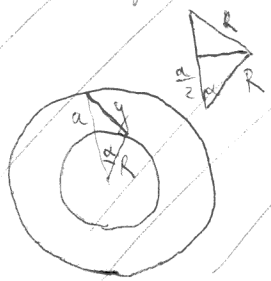
Посмотрим куда торевная масса  $\Delta m$  притягивает к б.к. Так же, как и к осн. камп.

$$\frac{GM_{\Delta m}}{x^2} = \frac{GM_{\Delta m}}{(a-x)^2}$$

$$\frac{x}{\sqrt{M}} = \frac{a-x}{\sqrt{M_0}} ; \quad x = \frac{a/\sqrt{M_0}}{\frac{1}{\sqrt{M}} + \frac{1}{\sqrt{M_0}}} = \frac{a}{1 + \sqrt{\frac{M_0}{M}}}$$

Т.к. окружение идет с незначительной скоростью, то  $x \approx R$

Посмотрим, когда  $y=R$



$\sin \alpha = \frac{a}{2R} = \frac{0.14}{2 \cdot 0.10} = \frac{14}{20} = 0.7$   
 $\alpha \approx 45^\circ$

$$R = \frac{a}{1 + \sqrt{\frac{M_0}{M}}} \Rightarrow 1 + \sqrt{\frac{M_0}{M}} \approx \frac{a}{R} \approx 1.4 ; \quad \frac{M_0}{M} \approx 0.16$$

$M \approx 6M_0$

$\rho \cdot \frac{4}{3} \pi R^3 \approx 12 \cdot 10^{30} \text{ кг} ; \quad \rho \approx \frac{3 \cdot 10^{30} \text{ кг}}{(15 \cdot 10^3 \text{ м})^3} \approx \frac{3 \cdot 10^{30}}{3000 \cdot 10^{27}} \approx 1 \frac{\text{кг}}{\text{м}^3}$



Отв.:  $\rho \approx 1 \frac{\text{кг}}{\text{м}^3}$

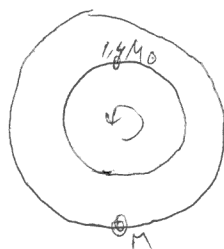


~4.

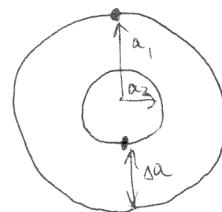
~~Т = 1с~~

$T = 1с$

~~1с~~



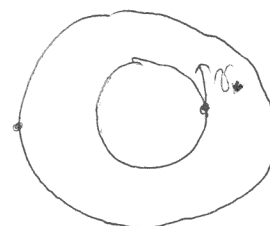
~~1с~~



$a_1 + a_2 = a$

~~Т = 2π √(a³ / G(1.4M0 + M))~~

✓



$\frac{\Delta l}{l} = \frac{v_r}{c}$  ;  $v_r = c \frac{\Delta l}{l} = 3 \cdot 10^8 \frac{m}{c} \cdot \frac{0,5 \text{ \AA}}{5570 \text{ \AA}}$

$v_r \approx 2 \cdot 10^4 \frac{m}{c}$   
 $v = v_r$

~~Т = 2π √(a³ / G(1.4M0 + M))~~

$1,4M_0 x = M(a_1 + a_2 - x) \Rightarrow x = \frac{M(a_1 + a_2)}{1,4M_0 + M} = \frac{Ma}{1,4M_0 + M}$   
 ↑  
 расстояние до ц.м.

$v = \sqrt{\frac{G(1,4M_0 + M)}{x}} = \sqrt{\frac{G(1,4M_0 + M)^2}{Ma}} = 3 \cdot 10^4 \frac{m}{c}$

~~Т = 2π √(a³ / G(1.4M0 + M))~~  $m - m_0 = -2,5 \lg \frac{E_1 + E_2}{E_0}$

$T = 2\pi \sqrt{\frac{a^3}{G(1,4M_0 + M)}} \Rightarrow a = \left( \frac{T^2 G(1,4M_0 + M)}{4\pi^2} \right)^{\frac{1}{3}}$

$v = \sqrt{\frac{G^{\frac{2}{3}} (1,4M_0 + M)^{\frac{5}{3}}}{M T^{\frac{2}{3}}}} \approx 3 \cdot 10^4$

$G^{\frac{2}{3}} \approx (10^{-12})^{\frac{2}{3}} \approx 10^{-8}$

$(4\pi^2)^{\frac{1}{3}} \approx 3$

$\frac{(1,4M_0 + M)^{\frac{5}{3}}}{M} \cdot 3 \cdot 10^{-8} = 9 \cdot 10^8$

$\frac{(1,4M_0 + M)^{\frac{5}{3}}}{M} \approx 3 \cdot 10^{16}$

$M \approx M_0$

$2,4^{\frac{5}{3}} \cdot M_0^{\frac{2}{3}} \approx 3 \cdot 10^{16}$  нм



~4 (Прогнозируем)

$$M = n M_{\odot}$$

$$(1,4+n)^{\frac{5}{3}} M_{\odot}^{\frac{2}{3}} = 3 \cdot 10^{16}$$

$$(1,4+n)^{\frac{5}{3}} \cdot 10^{20} \approx 3 \cdot 10^{16}$$

$$(1,4+n)^{\frac{5}{3}} = 3 \cdot 10^{-4} \quad ?$$

$$x = k a_{\oplus}$$

$$v = \sqrt{\frac{GM_{\odot}(1,4+n)}{k a_{\oplus}}} = 30 \frac{\text{km}}{\text{c}}$$

$$\frac{1,4+n}{k} = 1 \quad 1,4+n = k$$

$$a = x \frac{1,4 M_{\odot} + M}{M} = x \frac{1,4+n}{n}$$

$$T = 2\pi \sqrt{\frac{a^3}{G(1,4 M_{\odot} + M)}} = 2\pi \sqrt{\frac{x^3 \left(\frac{1,4+n}{n}\right)^3}{GM_{\odot}(1,4+n)}} = 2\pi \sqrt{\frac{a_{\oplus}^3}{GM_{\odot}}} \cdot \sqrt{\frac{k^3 (1,4+n)^2}{n^3}} =$$

$$= 1 \text{ yr} \cdot \sqrt{\frac{(1,4+n)^5}{n^3}} = 1 \text{ c} \quad ? \quad \text{Странно, непонятен ответ}$$

$$\frac{L}{L_{\odot}} = \frac{E_1 + E_2}{E_{\odot}} \cdot \frac{r^2}{a_{\oplus}^2} = \frac{R_1^2 + R_2^2}{R_{\oplus}^2}$$

$$E \sim \left(\frac{R}{r}\right)^2$$

$$L = 4\pi R_{\oplus}^2 \sigma T_{\oplus}^4 \frac{R_1^2 + R_2^2}{R_{\oplus}^2} = 4\pi \sigma T_{\oplus}^4 (R_1^2 + R_2^2)$$

з.т.п.    н.з.

$$T = \frac{2\pi}{\omega} = 1 \text{ c}$$

$$\frac{G 1,4 M_{\odot} m}{R_2^2} = m \omega^2 R_2 \quad \Rightarrow \quad R_2 = \sqrt[3]{\frac{1,4 G M_{\odot} T^2}{4\pi^2}} \approx 2000 \text{ km}$$





~4 (Прогрессиве 2)

У-за рео възниква откъсване  $\delta 10^{-8}$ ? Едем у-за наклонност скорости света, то  $t = \frac{a}{c} \Rightarrow a = 30 \text{ км (?)}$  спрямо.

Едем заднак на это условие и свързано, то  $R_1 \approx R_0$ , то

$$L = 4\pi R_0 \sigma T_0^4 (R_0^2 + R_2^2) = [R_0 \gg R_2] = 4\pi \sigma T_0^4 R_0^2 \approx$$

$$= 4 \cdot 3 \cdot 5,67 \cdot 10^{-8} \cdot 6000^4 \cdot (700 \cdot 10^5)^2 \approx 70 \cdot 10^{-8} \cdot 6^4 \cdot 10^{12} \cdot 7^2 \cdot 10^{10} =$$

$$= 6^4 \cdot 7^3 \cdot 10^{21} \approx 81 \cdot 16 \cdot \underbrace{350}_{\approx 500} \cdot 10^{21} \approx \boxed{4 \cdot 10^{25} \text{ BT}}$$

~5.

$\delta = 69^\circ 20'$      $\alpha = 11^\circ 31'$      $m_0 = 3,8'$

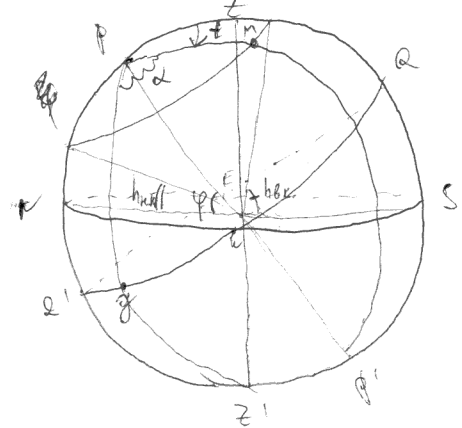
$m(t) = ?$

$\varphi = 68^\circ 58'$

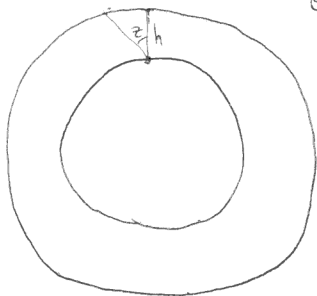
$h_{k.k.} = 90 - |\varphi - \delta| = 90 - |22'| = 89^\circ 38'$

$h_{k.k.} = -90 + |\varphi + \delta| = 140 - 1^\circ 42' - 90 = 48^\circ 18'$

$m - m_0 = -2,5 \lg$



~~scribble~~



~~scribble~~

$\cos t = \frac{\sin h \sin \alpha - \sin \varphi \sin \delta}{\cos \varphi \cos \delta}$

$m - m_0 = -2,5 \lg \frac{h}{h_0}$

$\Delta m_{\text{max}} = -2,5 \lg \frac{h_{k.k.}}{h_0} \approx -2,5 \lg 2 \approx -0,7^m$

$m \approx 3,8^m \left( 1 - \frac{t}{2\pi} 0,7^m \right)$

