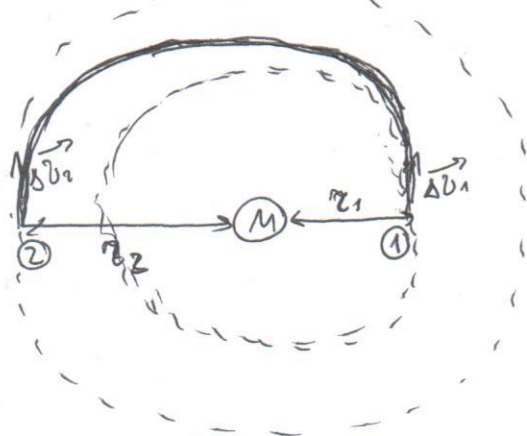
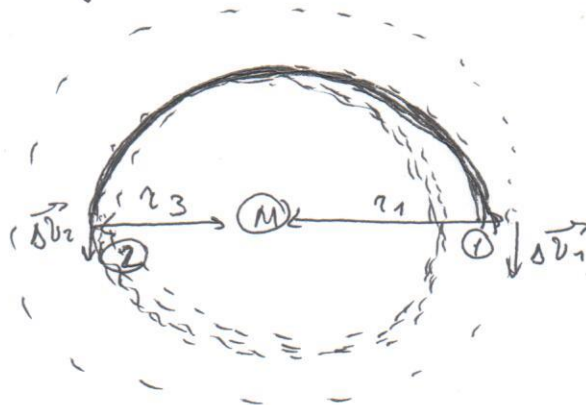


Задача и 1

а) предположим



б) получилось



В начале движения скорости спутника в обоих случаях равнялась $v_0 = \sqrt{\frac{GM}{r_1}}$

а) после Δv_1 :

$$v_1 = 1,1 v_0 = 1,1 \sqrt{\frac{GM}{r_1}}$$

• перелёт по эллипсу Гаусса:

$$v_2 = \frac{1-e}{1+e} v_1 = 1,1 \frac{1-e}{1+e} \sqrt{\frac{GM}{r_1}}$$

• после Δv_2 :

$$v_k = 0,9 \cdot v_2 = 0,9 \cdot 1,1 \frac{1-e}{1+e} \sqrt{\frac{GM}{r_1}}$$

б) после Δv_1

$$v_1 = 0,9 v_0 = 0,9 \sqrt{\frac{GM}{r_1}}$$

• перелёт по эллипсу:

$$v_2 = \frac{1+e}{1-e} v_1 = 0,9 \frac{1+e}{1-e} \sqrt{\frac{GM}{r_1}}$$

• после Δv_2 :

$$v_k = 1,1 v_2 = 1,1 \cdot 0,9 \frac{1+e}{1-e} \sqrt{\frac{GM}{r_1}}$$

Стоит отметить, что эксцентриситеты перелётных орбит не равны (как и полные полуоси)

а) скорость в точке 1:

$$\sqrt{\frac{GM}{a} \frac{1+e}{1-e}} = \sqrt{\frac{GM}{r_1}} \cdot 1,1$$

$$\frac{GM}{a} \frac{1+e}{1-e} = 1,21 \frac{GM}{a(1-e)}$$

$$1+e = 1,21$$

$$e = 0,21$$

в случае (а)

б) скорость в точке 1:

$$\sqrt{\frac{GM}{a} \frac{1-e}{1+e}} = 0,9 \sqrt{\frac{GM}{r_1}}$$

$$\frac{GM}{a} \frac{1-e}{1+e} = 0,81 \frac{GM}{a(1+e)}$$

$$1-e = 0,81$$

$$e = 0,19$$

в случае (б)

Найдём отношение начальной радиуса ^{орбиты} и конечному в каждой спирали:

a) $v_k = \sqrt{\frac{GM}{r_2}}$

$v_k = 0,9 \cdot 1,1 \cdot \frac{1-0,21}{1+0,21} \sqrt{\frac{GM}{r_1}} = \sqrt{\frac{GM}{r_2}}$

$\Rightarrow 0,64 \sqrt{\frac{GM}{r_1}} = \sqrt{\frac{GM}{r_2}}$

~~$\frac{r_1}{r_2} = 0,41$~~

$\frac{r_1}{r_2} = 0,41$

б) $v_k = \sqrt{\frac{GM}{r_3}}$

$v_k = 1,1 \cdot 0,9 \cdot \frac{1+0,19}{1-0,19} \sqrt{\frac{GM}{r_1}} = \sqrt{\frac{GM}{r_3}}$

⇓

$\frac{r_1}{r_3} = 2,7$

Выразим большие полуоси в каждой спирали:

a) $a_1 = \frac{r_1 + r_2}{2} = r_1 \frac{1 + 0,41}{2} = 0,705 r_1$

б) $a_2 = \frac{r_1 + r_3}{2} = r_1 \frac{1 + 2,7}{2} = \frac{3,7}{5,4} r_1 \approx 0,67 r_1$

По 3-му закону Кеплера:

$\frac{MT_1^2}{a_1^3} = \frac{4\pi^2}{GM} \Rightarrow T_1 = 2\pi \sqrt{\frac{a_1^3}{GM}}$

$\frac{MT_2^2}{a_2^3} = \frac{4\pi^2}{GM} \Rightarrow T_2 = 2\pi \sqrt{\frac{a_2^3}{GM}}$

$\Delta T = T_1 - T_2 = 2\pi \sqrt{\frac{a_1^3}{GM}} - 2\pi \sqrt{\frac{a_2^3}{GM}} = 2\pi \sqrt{\frac{0,705^3 r_1^3}{GM}} - 2\pi \sqrt{\frac{0,67^3 r_1^3}{GM}} =$

$= 2\pi \sqrt{\frac{r_1^3}{GM}} \left(\sqrt{0,705^3} - \sqrt{0,67^3} \right)$

Заметим, что $\sqrt{\frac{r_1^3}{GM}} = \frac{1}{\omega}$ для спутника на начальной орбите

$\Rightarrow \omega = \frac{2\pi}{T_1} = \frac{\pi}{12}$ рад/сек (радиационный)

$\Delta T = 2\pi \cdot \frac{12}{\pi} \left(\sqrt{0,705^3} - \sqrt{0,67^3} \right) \approx \underline{1 \text{ рад}}$

Ответ: 1 рад

1) Определим светимость звезды и радиус орбиты планеты:

Звезда на главной последовательности:

$$\frac{L}{L_{\odot}} = \left(\frac{M}{M_{\odot}}\right)^4 \Rightarrow L = 16 L_{\odot} = 16 \cdot 3,88 \cdot 10^{26} = 62 \cdot 10^{26} \text{ Вт}$$

По 3-му закону Кеплера:

$$\left(\frac{a}{a_{\oplus}}\right)^3 = \frac{M}{M_{\odot}} \left(\frac{T}{T_{\oplus}}\right)^2$$

$$a = \sqrt[3]{2 \cdot 4^2} = \sqrt[3]{32} \approx 3,2 \text{ ае} = 3,2 \cdot 1,5 \cdot 10^{11} = 4,8 \cdot 10^{11} \text{ м}$$

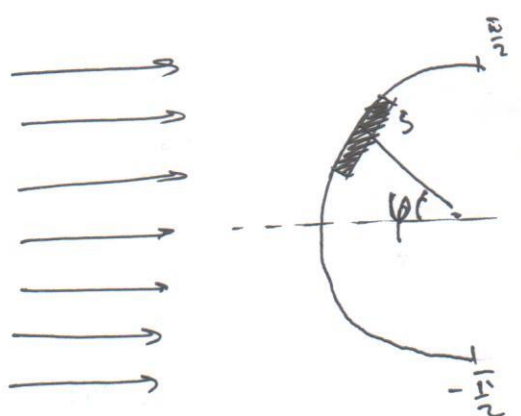
2) Угловая скорость вращения планеты:

$$\omega = \frac{2\pi}{20 \cdot 3600} = \frac{\pi}{3,6 \cdot 10^4} \frac{\text{рад}}{\text{с}}$$

3) Найдем количество световой энергии, которое падает на диаметр за 1-е оборота

Освещенность от звезды на планете: $J = \frac{L}{4\pi a^2}$

За малое время:



$dE = J S \cos(\omega t) dt$
 $E_{\text{полн}} = 2 \frac{L S}{4\pi a^2} \int_0^{\frac{\pi}{2}} \cos(\omega t) dt$, где T - период обращения планеты вокруг себя
 $\int_0^{\frac{\pi}{2}} \cos(\omega t) dt = \frac{\sin(\omega t)}{\omega} \Big|_0^{\frac{\pi}{2}} = \frac{1}{\omega}$
 $E_{\text{полн}} = \frac{L S}{2\pi a^2 \omega}$

Батарея имеет КПД $\eta = 0,1$, значит, $W = \eta E_{\text{полн}} = \frac{\eta L S}{2\pi a^2 \omega}$

$$W = \frac{0,1 \cdot 62 \cdot 10^{26} \cdot 100 \cdot 3,6 \cdot 10^4}{2\pi \cdot 1,4^2 \cdot 10^{24} \cdot \pi} = \frac{62 \cdot 3,6 \cdot 10^{31}}{2 \cdot 1,4^2 \cdot 10^{25}} = \text{---} 55,7 \cdot 10^6 \text{ Дж}$$

Ответ: ~~55,7 \cdot 10^6 Дж~~ 55,7 \cdot 10^6 Дж

1) Формула Планка для энергии фотонов:

$$E = h\nu \Rightarrow \nu = \frac{E}{h} \Rightarrow \omega = \frac{2\pi E}{h}$$

2) Вращение ^{свободного} электрона в магнитном поле:

$$e v B_0 = \frac{m v^2}{R}$$

$$v = \frac{e B_0 R}{m} = \omega R \Rightarrow \omega = \frac{e B_0}{m} = \frac{2\pi E}{h}$$

$$\boxed{B_0 = \frac{2\pi E m}{e h}}$$

~~На~~ На границе нейтронной звезды электроны сходят с орбиталей и разрушают ядра атомов (свободные электроны)

3) Оценим $B_0 = \frac{2\pi \cdot 30 \cdot 10^3 \cdot 1,6 \cdot 10^{-19} \cdot 10^{-30}}{1,6 \cdot 10^{-19} \cdot 9,109 \cdot 10^{-31}} \approx \underline{\underline{3 \cdot 10^8 \text{ Тл}}}$

4) Оценим зависимость давления аккреционного вещества:

$$p = n k T$$

Примем $T = \text{const}$ и лемингарное гравитационное спл-в.

$$\Delta V = \frac{4}{3} \pi (R + \Delta R)^3 - \frac{4}{3} \pi R^3 \approx \frac{4}{3} \pi R^2 \Delta R$$

$$n = \frac{N}{\Delta V} \approx \frac{1}{R^2}, \text{ где } N - \text{ количество частиц в слое } \Delta V$$

Значит, ~~...~~ $p = \frac{n_0 k T r_0^2}{r^2}$, где k - постоянная Больцмана

n_0, r_0 - концентрация частиц и соответствующий радиус (10 км)

5) Зависимость давления магнитного поля:

$$p_M = \alpha B_0^2 \left(\frac{r_0}{r}\right)^6, \text{ где } \alpha = 4 \cdot 10^5 \text{ Па/Тл}^2$$

$r_0 \approx 10 \text{ км}$

6) $p_M = p$

$$\alpha B_0^2 \left(\frac{r_0}{r}\right)^6 = \frac{n_0 k T r_0^2}{r^2}$$

Откуда получим: $r = \sqrt[4]{\frac{\alpha B_0^2}{n_0 k T}} = r_0 \sqrt[4]{\frac{\alpha B_0^2}{n_0 k T}}$

7) Определим n_0 - на поверхности нейтронной звезды

Яр - 3

$$n_0 = \frac{N}{V} = \frac{M}{2m_p \frac{4}{3}\pi r_0^3} = \frac{3M}{8\pi m_p r_0^3} = \frac{3 \cdot 1,4 \cdot 2 \cdot 10^{30}}{8 \cdot 3,14 \cdot 1,67 \cdot 10^{-27} \cdot 10^{12}} \approx 5 \cdot 10^{44}$$

8) Оценим: $r = r_0 \sqrt[4]{\frac{4 \cdot 10^5 \cdot 3 \cdot 10^{16}}{5 \cdot 10^{44} \cdot 1,38 \cdot 10^{-23} \cdot 10^4}} \approx 0,2 r_0$

Результат абсолютно пренебрежимо мал, однако, звезда создает такое давление ~~внутри~~ излучения, действующее на вещество.

т.к. Оптическая толщина аккреционного вещества ограничена ($\tau \sim 1000$) и светимость звезды близка к критической предель Эддингтона, то результат может оказаться

$r \approx 100 r_0 = 1000 \text{ км}$

~~Задача 11~~

~~Рассчитать абсолютную и видимую звездную величину звезды $r = 25 \text{ (парсек)}$ по формуле Парсона $m - M = 5 \lg \left(\frac{d}{10 \text{ пк}} \right) \approx 15 \text{ м}$~~

Задача 14

Рассчитать видимую звездную величину с $d = 0,31 \text{ пк}$ для звезды:

~~Рассчитать~~ $m = M + 5 \lg \left(\frac{d}{10 \text{ пк}} \right) = -2,5 + 5 \lg \left(\frac{0,31}{1} \right) \approx -2,5 + 15 = 12,5 \text{ м}$

~~Видимая величина звезды $m = 12,5 \text{ м}$ означает, что звезда находится на расстоянии $d = 0,31 \text{ пк}$ от наблюдателя.~~

Задача 12

Изменение звездной величины Вируса за счет физического приближения / отдаления пренебрежимо мало.

За счет перемещения можно незначительно изменить геометрический параллакс звезды, как следствие, зенитное расстояние.

В зависимости от z атмосфера обладает различной пропускающей способностью для различных лучей (по цвету). Если Вирус поднимется над горизонтом, то его зв. величина уменьшится (станет более ярким), т.к. синие лучи лучше проходят при меньших z .