

1. naloga

Gnomon (palica) horizontalne sončne ure je postavljen navpično. Med letom se dolžina opoldanske sence spremeni za dve dolžini gnomona. Izračunaj zemljepisno širino kraja, v katerem je ta sončna ura.


- ① SONCE je najvišje ^{a)} 21.6. ($\delta_{01} = 23,5^\circ$), najnižje pa ^{b)} 21.12. ($\delta_{02} = -23,5^\circ$), za SEVERNO (Northern) poloblo.

- ② a) 21. 6. Naj bo x dolžina sence. Potem je

$$h_1 = \rho + \delta_{01}$$

in

$$\tan h_1 = \frac{a}{x}$$

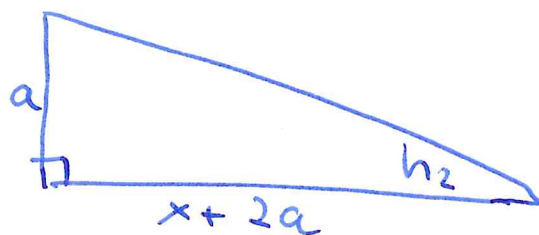


SLIKA 1

- b.) 21.12. Pa je (SLIKA 2)

$$h_2 = \rho - \delta_{01}$$

$$\tan h_2 = \frac{a}{x+2a}$$

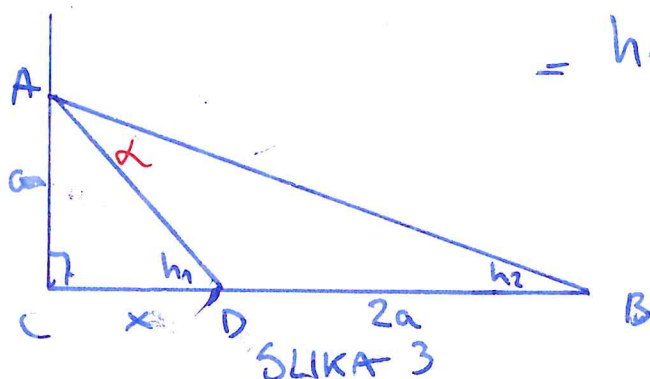


SLIKA 2

- ③ kako bi rešili sistem enačb in uporabili ADICIJSKE TEOREME iz TRIGONOMETRIJE, ampak nimam kalkulatorja.

- h.) Kombiniramo SLIKO 1 in SLIKO 2.

$$\begin{aligned} \alpha &= (90^\circ - h_2) - (90^\circ - h_1) = \\ &= h_1 - h_2 = \rho + \delta_{01} - \rho + \delta_{01} \\ &= 2\delta_{01} = 2 \cdot 23,5^\circ \\ &= \underline{\underline{47^\circ}} \end{aligned}$$



SLIKA 3

NEXT PAGE.

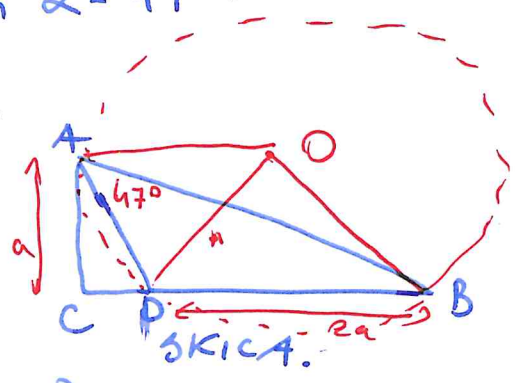
⑤ KONSTRUIRAMO tak $\triangle ABD$.

Vemo $uv = a$, $a' = 2a$ in $\angle = 47^\circ$.

Naj bo O središče očrtanega kroga.

$$\Rightarrow \angle DOB = 2 \cdot \angle = 94^\circ$$

$$\Rightarrow \angle BDO = \frac{180^\circ - \angle DOB}{2} = \frac{180^\circ - 94^\circ}{2} = 43^\circ = \angle OBD.$$



(i) Narišemo $2a$ in $\triangle BDO$ in $\triangle OBD$ iz D in B :

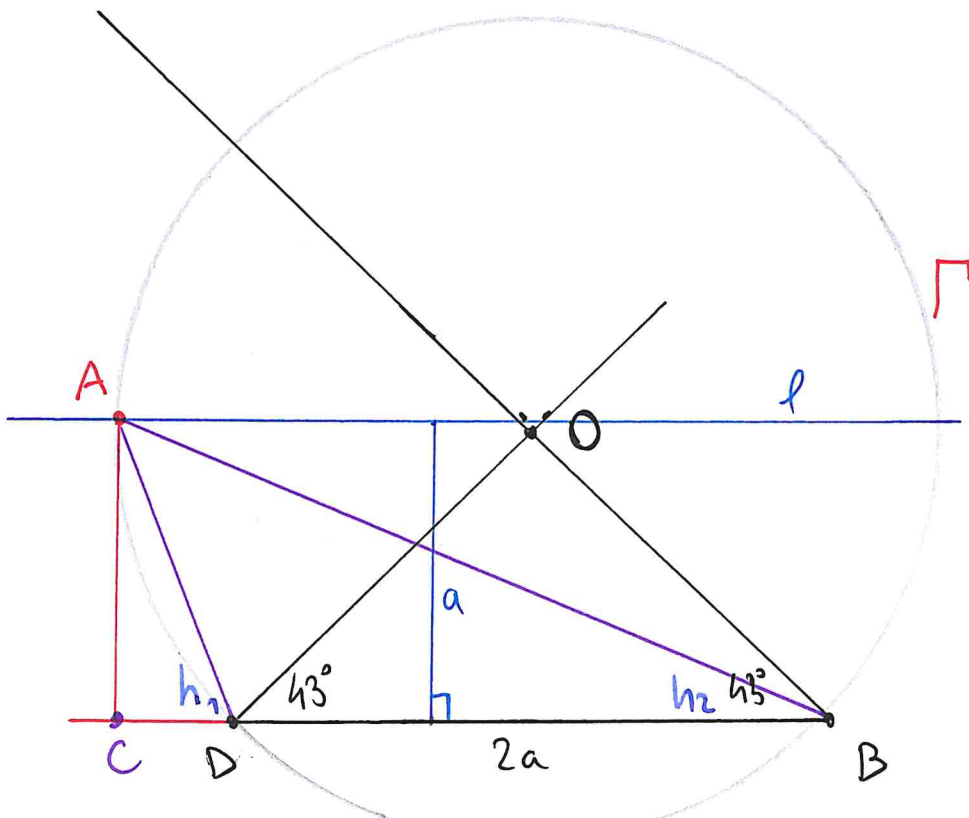
(ii) Naredimo višino $uv = a$, premica višine l .

(iii) Kjer se sekata Γ in l je A .

(iv) Dodamo še ostalo.

⑥ Odcitamo, da je $\angle ABC = 22^\circ = h_2$.

$$\Rightarrow \angle = h_2 + 23,5 \approx \boxed{45^\circ}$$

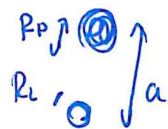


2. naloga

Leta 2003 so astronomi odkrili luno, ki kroži okoli pulzarja XTE J1807-294 (njegova masa je 1,4 mase Sonca). Obhodni čas lune okoli pulzarja je 0,03 dneva in ima maso 14,5 mase Jupitra. Kaj lahko ugotoviš o snovi, iz katere je ta luna? Svoje odgovore utemelji tudi z računi.

1. Iz Keplerjevega III. zakona lahko dobimo

$$\frac{a^3}{P^2} = \frac{G(M_P + M_L)}{4\pi^2}$$



$$a = \left(\frac{G(M_P + M_L) \cdot P^2}{4\pi^2} \right)^{1/3}$$

- $G = 6,67 \cdot 10^{-11}$
- $M_P = 1,4 M_\odot = 1,4 \cdot 2 \cdot 10^{30} \text{ kg}$
- $M_L = 14,5 \cdot 230 \cdot \frac{8 \cdot 10^{24}}{2 \cdot 10^{30}} \approx 10^{-2} M_\odot$
- $P = 0,03 \cdot 24 \cdot 3600 \approx 2600 \text{ s}$

$$a \approx \left(\frac{6,67 \cdot 10^{-11} \cdot 1,4 \cdot 10^{30} \cdot 2600^2}{4\pi^2} \right)^{1/3}$$

$$\approx \left(\frac{6,67 \cdot 1,4 \cdot 26^2}{4} \cdot 10^{24} \right)^{1/3}$$

$$\approx \underline{4 \cdot 10^8 \text{ m}} \quad \nu = \frac{2\pi a}{t} = 10^6 \frac{\text{m}}{\text{s}}$$

2. ~~Zvez~~ Objekta sta zanemarljivo skupaj (close), ker je kratka P. Naj bo $R_{\text{PULZAR}} \approx 10^6 \text{ m}$.
 $! 10^7 \text{ m}$.
 $\ll a$.

③ če je $R_L \approx a$, torej največji možen,
bi bila

$$\rho_a = \frac{10^{-2} \cdot 10^{30} \cdot 2 \text{ kg}}{4 \cdot (4 \cdot 10^8)^3} > \cancel{70} \frac{\text{kg}}{\text{m}^3},$$

Karji velika gostota.

④ Ker je masa lune $M_L = 14 M_J$, bi pričakovali,
da gostote niso tako velike $\rho < 70 \frac{\text{kg}}{\text{m}^3}$.

⑤ V "najnem" primeru lahko rečemo, da gre za ~~ionizirani~~
ionizirani plin.

APPENDIX

Lahko dobimo ~~različno~~ hitrost POLETJA.

$$M_P \cdot v_P = M_L \cdot v_L$$

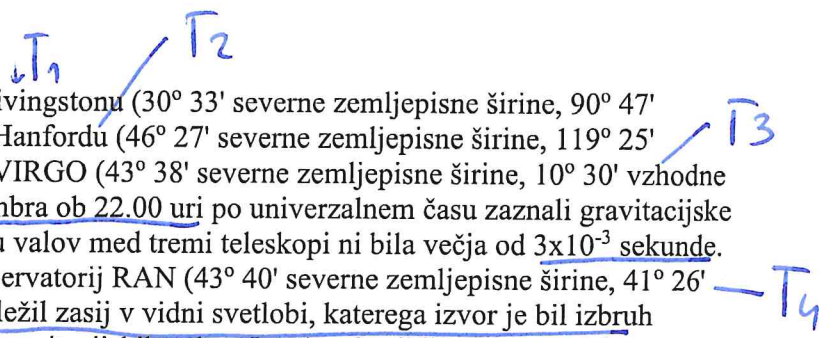
$$v_P = \frac{M_L}{M_P} \cdot v_L = \frac{10^{-2}}{1/4} \cdot 10^6 \frac{\text{km}}{\text{s}}$$

$$\approx \underline{\underline{10^4 \frac{\text{m}}{\text{s}}}}$$

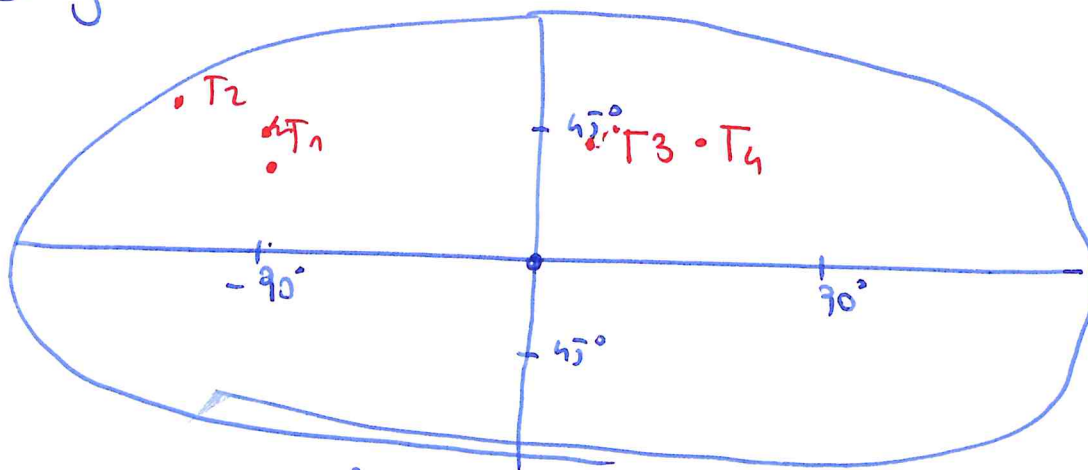
Število je verjetno $v_{\text{orb}}, H_{\text{ew}}$ (zvezda *).

3. naloga

Gravitacijski teleskopi LIGO v Livingstonu ($30^{\circ} 33'$ severne zemljepisne širine, $90^{\circ} 47'$ zahodne zemljepisne dolžine) in Hanfordu ($46^{\circ} 27'$ severne zemljepisne širine, $119^{\circ} 25'$ zahodne zemljepisne dolžine) in VIRGO ($43^{\circ} 38'$ severne zemljepisne širine, $10^{\circ} 30'$ vzhodne zemljepisne dolžine) so 31. decembra ob 22.00 uri po univerzalnem času zaznali gravitacijske valove. Časovna razlika v prihodu valov med tremi teleskopi ni bila večja od 3×10^{-3} sekunde. V času pol ure za tem je ruski observatorij RAN ($43^{\circ} 40'$ severne zemljepisne širine, $41^{\circ} 26'$ vzhodne zemljepisne dolžine) beležil zasij v vidni svetlobi, katerega izvor je bil izbruh sevanja gama, ki je bil tudi izvor gravitacijskih valov. Izračunaj približne ekvatorialne koordinate izvora gravitacijskih valov.



1. Zemljevid:



2. DATA: $\Delta t = 3 \cdot 10^{-3} \text{ s}$.

3. Gravitacijski valovi potujejo o svetlobno hitrostjo $c = 3 \cdot 10^8 \frac{\text{m}}{\text{s}}$.

$\Rightarrow \Delta s = \Delta t \cdot c = 9 \cdot 10^5 \text{ m} \approx 10^6 \text{ m}$.

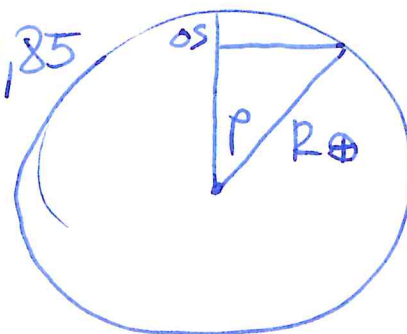
4. Najbolj zanimiv je Hanford, ki je od ostalih najbolj oddaljen.

$\Delta s = 9 \cdot 10^5 \text{ km}$. Ustreza razliki v kotu α na

$\cos \alpha = \frac{R_{\oplus} - \Delta s}{R_{\oplus}^*} \approx \frac{614 - 1}{614} = 0,85$

$\alpha \approx 30^{\circ}$

Ker: $\cos 60^{\circ} = \frac{1}{2} = 0,5$, $\cos 30^{\circ} = 0,85 \Rightarrow \alpha =$



* $R_{\oplus} \approx 6400 \text{ km}$

5. Zato vzemimo povprečje najbolj vzhodnega in najbolj zahodnega: $\lambda = \frac{\lambda_2 + \lambda_3}{2} = \frac{-129.5 + 10.5}{2} = -55^\circ$

Tu ker so razlika

$$\sim \lambda_{1,2} = 120^\circ - 90^\circ = 30^\circ \checkmark$$

$$\sim \lambda_{1,3} = -90^\circ + 10^\circ = \cancel{120^\circ} 80^\circ$$

če odštejemo $80^\circ - 30^\circ = 50^\circ$ od Tn.

6. Koordinate so zato okoli

$$\underline{\underline{L = -50^\circ \approx 20:21h \quad J \approx 45^\circ}}$$

4. naloga

T, O

Astronomi so v spektru neke zvezde opazovali absorpcijsko spektralno črto titanovega oksida, ki ima laboratorijsko valovno dolžino $5170,7 \text{ \AA}$ ($1 \text{ \AA} = 10^{-10} \text{ m}$). Valovna dolžina te spektralne črte v središču ploskvice zvezde je bila $5174,1 \text{ \AA}$, na robu ploskvice na ekvatorju zvezde pa $5174,2 \text{ \AA}$. Gostota zvezde je $0,7 \text{ g/cm}^3$. Oceni najmanjši možni izsev te zvezde.

$\textcircled{D}: \lambda_0 = 5170,7 \text{ \AA}$ $\rho = 0,7 \text{ g/cm}^3 = 700 \frac{\text{kg}}{\text{m}^3}$
 $\lambda_1 = 5174,1 \text{ \AA}$
 $\lambda_2 = 5174,2 \text{ \AA}$

1. Radi bi dobili RADIALNO HITROST. Zato iz enačbe za ROEČI PREDNIK: [$v \ll c$]:

$$v_1 = c \cdot \frac{\lambda_1 - \lambda_0}{\lambda_0}; \quad v_2 = c \cdot \frac{\lambda_2 - \lambda_0}{\lambda_0}$$

Radialna hitrost je

$$v = v_1 - v_2 = \frac{c}{\lambda_0} \cdot (\lambda_1 - \lambda_2) = \frac{3 \cdot 10^8 \frac{\text{m}}{\text{s}} \cdot 10^{-1} \text{ nm}}{5170,7 \text{ nm}}$$

2. Keplerjev III. zakon, dobimo P (obhodni čas).

$$\approx 6 \cdot 10^4 \frac{\text{m}}{\text{s}}$$

$$P = \left(\frac{4\pi^2}{GM} \cdot R^3 \right)^{1/2} = \left(\frac{3 \cdot \pi}{G \cdot \rho} \right)^{1/2} = \left(\frac{3 \cdot \pi}{6,67 \cdot 10^{-11} \cdot 700} \right)^{1/2}$$

3. $R = \frac{v \cdot t}{2\pi} = \frac{6 \cdot 10^4 \frac{\text{m}}{\text{s}} \cdot 1,4 \cdot 10^4 \text{ s}}{2\pi} = (2 \cdot 10^8)^{1/2}$

$$\approx 1,4 \cdot 10^4 \text{ s}$$

4. MASSA te zvezde je $M = \rho \cdot \frac{4}{3} \pi R^3 = 3 \cdot 10^{27} \text{ kg}$.

Torej zelo majhna [small].

$$\approx 0,0015 M_{\odot}$$

Velja dobro: $L \propto M^{3.5}$, računamo navzdol.

$$\frac{L_{\text{zvezde}}}{L_{\odot}} \approx \left(\frac{M}{M_{\odot}}\right)^3 \Rightarrow L_{\text{zvezde}} \approx 3 \cdot 10^{-9} L_{\odot}$$

5) Ampak $M \ll M_{\odot}$, zato zgornja zveza ne velja dobro. Verjetno gre za BELO PRITUKAVKO (white dwarf), ki ima majhen izsev $L \ll L_{\odot}$

5. naloga

Protoplanetarni disk je zelo tanek disk snovi, ki kroži okoli mlade zvezde. Predpostavi, da je disk v termodinamičnem in hidrostatičnem ravnovesju in najdi odvisnost gostote snovi nad ravnino diska od oddaljenosti r od zvezde. Masa zvezde M , temperatura diska T in molska masa snovi μ so znane količine.



② Za drobec mase dm moratudi veljati III Keplerjev zakon:

$$\frac{a^3}{P^2} = \frac{GM}{4\pi^2}$$

③ Ampak tu imamo P , ~~ki nam ne~~ (time), ki nam ne koristi.

$m \dots$ masa snovi
 $n \dots$ molarnost snovi

$$\rho = \frac{m}{n}$$

$$\Rightarrow \rho = \frac{dm}{dV} = \frac{\mu \cdot n}{dx \cdot dx \cdot 2\pi r} \quad (0)$$

④ Po plinskem zakonu: $n = \frac{pV}{RT} \quad (1)$

$$R = 8,31 \frac{\text{Pa} \cdot \text{L}}{\text{mol} \cdot \text{K}}$$

⑤ Vstavimo v (0).

$$\rho = \frac{\mu \cdot pV}{(dx)^2 \cdot 2\pi r \cdot RT} = \frac{\mu \cdot p}{RT \cdot dx}$$

⑥ Prav pride tudi gravitacijski zakon:

$$F_g = G \frac{M m}{r^2}$$

Pro Verjetno je treba rešiti DIFERENCIALNO ENAČBO,
morda tudi kaj integrirati.

$$G \frac{dm \cdot M}{r^2} = \frac{v^2}{r} \cdot dr$$

$$\frac{GM}{r^2} = \frac{v^2}{r}$$

$$v = \sqrt{\frac{GM}{r}}$$

(for kinetic energy)