

Задача 1

234



$L_{x*} = \frac{L}{\text{tg} h}$; L - длина гномона; h - наклонная высота Солнца;

L_{x*} - длина тени гномона. Наклонная высота Солнца - высота Солнца

в верхней кульминации. Минимальная длина тени достигается при максимальной высоте и наоборот.

$h = 90^\circ - |\varphi + \delta|$; φ - широта; δ - склонение Солнца.

Для определенности рассмотрим северное полушарие

Пусть $\varphi \geq \delta$, тогда $h = 90^\circ - \varphi + \delta$

$$L_x = \frac{L}{\text{tg}(90^\circ - \varphi + \delta)}$$

$L_{x \max} = \frac{L}{\text{tg}(90^\circ - \varphi + \delta_{\min})}$; δ_{\min} - минимальное склонение Солнца; $L_{x \max}$ - максимальная

длина тени.

$L_{x \min} = \frac{L}{\text{tg}(90^\circ - \varphi + \delta_{\max})}$; δ_{\max} - максимальное склонение Солнца; $L_{x \min}$ - минимальная длина

тени

$$L_{x \max} - L_{x \min} = 2L; \quad \frac{L}{\text{tg}(90^\circ - \varphi + \delta_{\min})} - \frac{L}{\text{tg}(90^\circ - \varphi + \delta_{\max})} = 2L;$$

$$\text{tg}(90^\circ - \varphi + \delta_{\max}) - \text{tg}(90^\circ - \varphi + \delta_{\min}) - 2 \text{tg}(90^\circ - \varphi + \delta_{\min}) \text{tg}(90^\circ - \varphi + \delta_{\max}) = 0$$

и уравнение. Если в случае $\varphi < \delta$ такая ситуация невозможна.

Минимальная высота Солнца ~~на~~ $43^\circ \approx 45^\circ$ и длина тени равна длине гномона. Минимальная длина тени 0 , Солнце в зените.

Тогда $L = L < 2L$. Широта гномона ~~должна~~ быть больше по модулю $23,5^\circ$

нужно решить уравнение. Ответом к задаче будет $\pm \varphi$, где

φ - корень уравнения (в силу симметрии земных параллелей)

Корень уравнения ~~на~~ примерно равен $25^\circ \dots 30^\circ$

Ответ: $\varphi = 128^\circ$

Задача 2

Дано:
 $M = 1,4 M_{\odot}$
 $T = 903 \text{ сут}$
 $M_x = 14,5 M_{\oplus}$

Решение:

$$\frac{T^2(M + M_x)}{T_{\oplus}^2 M_{\oplus}} = \frac{R^3}{R_{\oplus}^3};$$

$$R^3 = \frac{R_{\oplus}^3 T^2 (M + M_x)}{T_{\oplus}^2 M_{\oplus}}$$

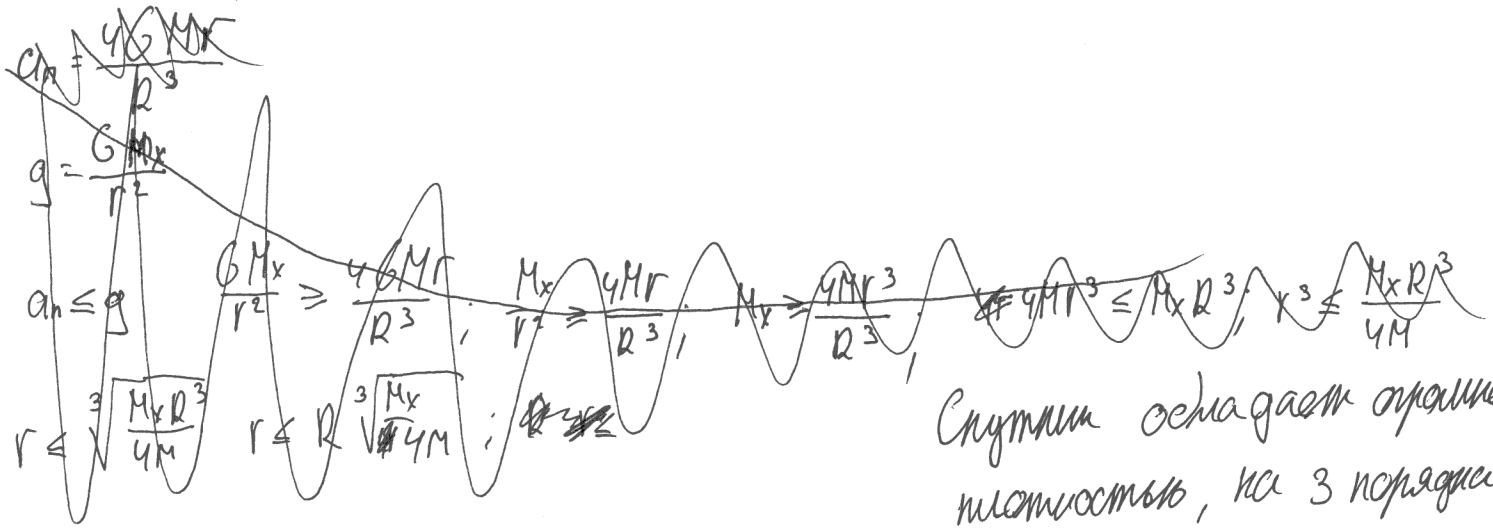
R - радиус орбиты спутника
 R_{\oplus} - радиус орбиты Земли
 M - масса пульсара
 M_x - масса спутника

$$R = R_{\oplus} \sqrt[3]{\frac{T^2 (1,4 M_{\oplus} + 14,5 M_{\oplus})}{T_{\oplus}^2 M_{\oplus}}} = R_{\oplus} \sqrt[3]{\frac{T^2 (1,4 M_{\oplus} + 14,5 M_{\oplus})}{T_{\oplus}^2 M_{\oplus}}} = R_{\oplus} \sqrt[3]{\frac{T^2 \cdot 1,4 M_{\oplus}}{T_{\oplus}^2 M_{\oplus}}} =$$

$$= R_{\oplus} \sqrt[3]{\frac{1,4 T^2}{T_{\oplus}^2}}; R = 1 \text{ a.e.} \cdot \sqrt[3]{\frac{1,41 \cdot (903 \text{ сут})^2}{(365 \text{ сут})^2}} = \left(\sqrt[3]{\frac{1,41 \cdot 90009}{133325}} \right) \text{ a.e.} =$$

$$= \left(\sqrt[3]{\frac{90013}{133325}} \right) \text{ a.e.} = \left(\sqrt[3]{\frac{1,3 \cdot 10^{-3}}{1,38 \cdot 10^5}} \right) \text{ a.e.} = \left(\sqrt[3]{10^{-8}} \right) \text{ a.e.} = 900380 \text{ a.e.} = 3,8 \cdot 10^{-3} \text{ a.e.} =$$

$= 5,7 \cdot 10^8 \text{ м};$



Спутник обладает огромной плотностью, на 3 порядка превышающей земную.

Этот спутник, вероятно, является самым маленьким.

$v = \frac{2\pi R}{T}; v \approx 1,43 \cdot 10^6 \text{ м/с}$
 v - скорость движения спутника по орбите
 $a_n = \frac{v^2}{R} = 3,6 \cdot 10^3 \text{ м/с}^2$ - центростремительное ускорение спутника

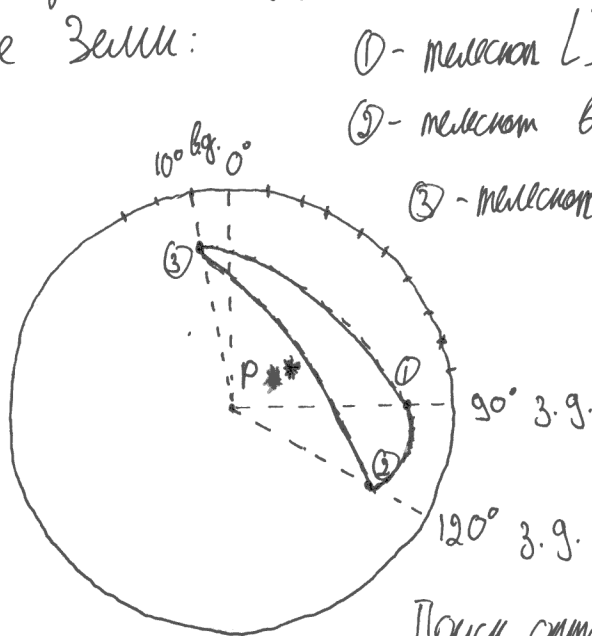
Объем: $\rho = 1,5 \cdot 10^6 \text{ кг/м}^3$

$r \leq \sqrt{\frac{GM_x}{a_n}}$ r - радиус спутника, иначе его разорвет мнимым ускорением

$r_{\text{max}} = \sqrt{\frac{GM_x}{a_n}}; r_{\text{max}} = 3,8 \cdot 10^7 \text{ м}$

$\rho_{\text{min}} = \frac{3M_x}{4\pi r_{\text{max}}^3}; \rho_{\text{min}} = 1,5 \cdot 10^6 \text{ кг/м}^3$ - минимальная плотность спутника

Телесные углы сигнала практически одновременно. Значит, они находятся на одинаковом удалении от источника. Изобразим северное полушарие Земли:



- ① - телескоп LIGO в Ливингстоне
- ② - телескоп в Ханфорде
- ③ - телескоп VIRGO

Изобразено с учетом масштаба и проекции полушария на плоскость. Толстые линии (-) - ортограммы, соединяющие телескопы.

Поиск ортосенвра треугольника из вычислитель-

ной техники займет большое кол-во времени и не будет очень точным, хотя он и возможен с помощью теоремы косинусов и синусов:

$$\begin{cases} \cos(a) = \cos(b)\cos(c) + \sin(b)\sin(c)\cos(A) \\ \frac{a}{\sin(A)} = \frac{b}{\sin(B)} = \frac{c}{\sin(C)} \end{cases}$$

Вместо этого можно примерно определить положение источника "на глаз"

Он обозначен знаком (*). Его координаты: $\varphi \approx 70^\circ$ с.ш.
 $\lambda \approx 70^\circ$ з.г.

Стоит отметить, что равноудаленная точка есть и в южной полушарии, но её оптическое наблюдение невозможно из обсерватории РАН.

Местное время этой точки в момент сигнала $t_* = 22^h - \frac{70^\circ}{15^\circ/h} \approx 17^h$

Прямое восхождение Солнца 31 декабря $\alpha_0 \approx 18^h 30^m$

Склонение источника

Тогда прямое восхождение источника: $\alpha_* = \alpha_0 - t_* \approx$

$$\delta = \varphi = 70^\circ$$

$$\alpha_* \approx 24^h - (24^h - 18^h 30^m - (17^h - 12^h)) = 23^h 30^m$$

Ответ: $\delta = 70^\circ$
 $\alpha = 23^h 30^m$

Задача 4

Дано:

$$\lambda = 5170,7 \text{ \AA}$$

$$\lambda_0 = 5174,1 \text{ \AA}$$

$$\lambda_1 = 5174,2 \text{ \AA}$$

$$\rho = 0,72 \text{ г/см}^3$$

Ищем:

$$\Delta\lambda_B = \lambda_1 - \lambda_0 = 0,1 \text{ \AA}$$

$$\frac{\Delta\lambda_B}{\lambda_0} = \frac{v_B}{c}; \quad v_B = \frac{c \Delta\lambda_B}{\lambda_0}; \quad v_B \approx 5,7 \cdot 10^3 \text{ м/с} - \text{экваториальная}$$

скорость вращения

$$\Delta\lambda_g = \lambda_0 - \lambda = 3,4 \text{ \AA};$$

$$\frac{\Delta\lambda_g}{\lambda} = \frac{v_g}{c}; \quad v_g = \frac{\Delta\lambda_g c}{\lambda} \approx 1,76 \cdot 10^5 \text{ м/с}$$

скорость гравитационного (углового)

максимально возможная скорость вращения. (иначе вещество оторвется от звезды)

$$v_I = \sqrt{\frac{GM}{R}} = \sqrt{\frac{4G\pi R^2 \rho}{3}} = 2R \sqrt{\frac{G\rho}{3}}$$

$$R = \frac{v_I}{2\sqrt{\frac{G\rho}{3}}}; \quad R_{\text{max}} = \frac{v_B}{2\sqrt{\frac{G\rho}{3}}} \quad v_B \leq v_I \leq 2R \sqrt{\frac{G\rho}{3}}$$

$$R \geq \frac{v_B}{2\sqrt{\frac{G\rho}{3}}} \quad R - \text{радиус звезды}$$

$$R \geq 2,22 \cdot 10^8 \text{ м}$$

$$M \geq 3,05 \cdot 10^{27} \text{ кг}$$

Звезда меньше Солнца. Скорее всего это звезда типа спектрального класса

M или даже белый карлик. Она точно в нашей галактике, значит по v_g невозможно определить расстояние исходя из закона Хаббла. Равенство вызвано вращением вокруг центра галактики.


Для таких звезд выполняются соотношения $\frac{M_1}{M_2} = \left(\frac{L_1}{L_2}\right)^{2,3}$

Значит, при максимальной возможной массе в $3,05 \cdot 10^{27} \text{ кг}$ L_{min} составляет $\approx 3 \cdot 10^{20} \text{ Вт}$. Ответ: $L_{\text{min}} \approx 3 \cdot 10^{20} \text{ Вт}$

Задача 5

Периодическое равновесие и гидростатическое равновесие.

Сила давления излучения звезды и радиодействующая сила гравитационного взаимодействия частицы создают ускорение, равное ускорению, необходимому для движения по окружности.



$$F_g \approx a_g = \frac{G(M_* + M_g)}{r}$$

для частицы в диске.

a_g - гравитационное ускорение

M_* - масса звезды

M_g - масса диска, находящегося внутри орбиты частицы (из теор. Гаусса)

r - расстояние до частицы

$a_* = \frac{L_* c m}{4\pi r^2}$; a_* - ускорение частицы, создаваемое потоком излучения;

L_* - светимость звезды; m - масса частицы

~~$a_g - a_* = \frac{v^2}{r}$~~ $a_g - a_* = \frac{v^2}{r}$; v - скорость вращения диска

П.и. ~~диск~~ размер диска много больше размера частицы газа, то

сила притяжения к диску \vec{F}_g практически не зависит от h . Зависимость

$\rho(h)$ скорее всего имеет вид $\rho = \rho_0 e^{-\beta h}$; где ρ_0 - плотность диска в плоскости симметрии; e - экспонента; α и β - коэффициенты.

~~$I = \frac{L_*}{4\pi r^2}$~~ $I = \frac{L_*}{4\pi r^2}$ - зависимость яркости звезды от расстояния до нее

